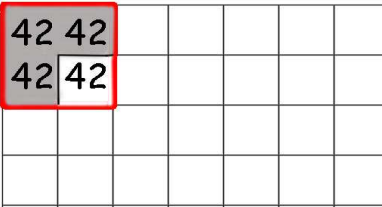


Nombre: _____

Fecha: _____

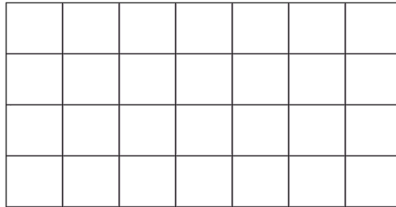
Dibuja la fracción en la cuadrícula y calcula.

Ejemplo


$\frac{3}{4}$ de	168
	
$\begin{array}{r} 168 \overline{) 4} \quad 42 \\ 08 \quad 42 \\ 0 \quad \quad \underline{x3} \\ 126 \end{array}$	

www.multiplicar.net


$$\frac{1}{5} \text{ de } 110$$




$$\frac{2}{9} \text{ de } 207$$




$$\frac{4}{7} \text{ de } 182$$



$$\frac{3}{8} \text{ de } 472$$

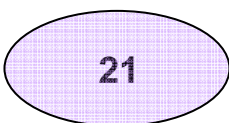


$$\frac{1}{3} \text{ de } 6$$

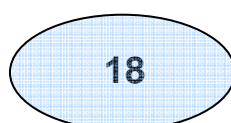


Une con flechas

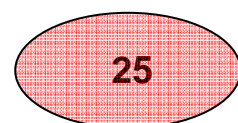
$$\frac{5}{7} \text{ de } 35$$



$$\frac{3}{4} \text{ de } 28$$



$$\frac{2}{4} \text{ de } 36$$



Nombre: _____

Fecha: _____

Dibuja la fracción en la cuadrícula y calcula.

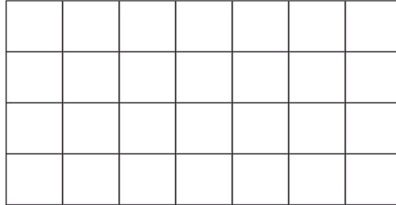
Ejemplo

$\frac{3}{4}$	de	168
42 42		
42 42		


168		4		42
08		42		x3
0				<u>126</u>

www.multiplicar.net

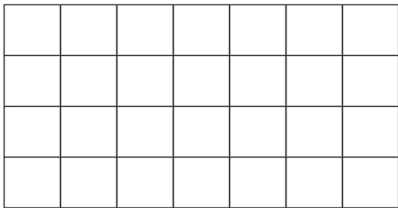
$$\frac{2}{5} \text{ de } 95$$




$$\frac{1}{5} \text{ de } 25$$




$$\frac{2}{9} \text{ de } 225$$



$$\frac{2}{4} \text{ de } 196$$

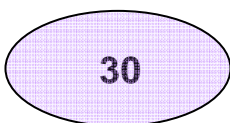


$$\frac{1}{3} \text{ de } 54$$

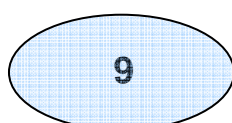


Une con flechas

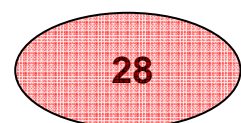
$$\frac{4}{6} \text{ de } 42$$



$$\frac{3}{9} \text{ de } 90$$



$$\frac{3}{5} \text{ de } 15$$



Nombre: _____

Fecha: _____

Dibuja la fracción en la cuadrícula y calcula.

Ejemplo

$\frac{3}{4}$	de	168
42		42
42		42

168		4		42
08		42		x3
0				<u>126</u>

www.multiplicar.net

$$\frac{1}{4} \text{ de } 148$$

$$\frac{4}{6} \text{ de } 84$$

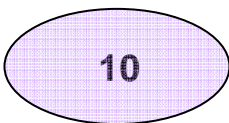
$$\frac{2}{7} \text{ de } 392$$

$$\frac{6}{7} \text{ de } 546$$

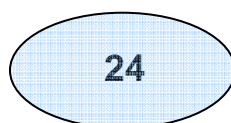
$$\frac{1}{6} \text{ de } 312$$

Une con flechas

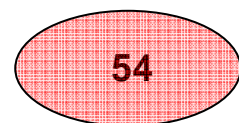
$$\frac{2}{4} \text{ de } 20$$



$$\frac{3}{4} \text{ de } 32$$



$$\frac{6}{8} \text{ de } 72$$



Nombre: _____

Fecha: _____

Dibuja la fracción en la cuadrícula y calcula.

Ejemplo

$\frac{3}{4}$	de	168	
42		42	
42		42	
<hr/>			
168		4	42
08		42	x3
0			<hr/> 126

www.multiplicar.net

$$\frac{3}{5} \text{ de } 145$$

$$\frac{2}{3} \text{ de } 21$$

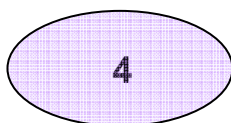
$$\frac{3}{7} \text{ de } 112$$

$$\frac{1}{7} \text{ de } 476$$

$$\frac{1}{5} \text{ de } 45$$

Une con flechas

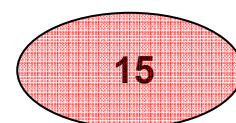
$$\frac{2}{3} \text{ de } 6$$



$$\frac{3}{5} \text{ de } 25$$



$$\frac{2}{8} \text{ de } 16$$



Nombre: _____

Fecha: _____

Dibuja la fracción en la cuadrícula y calcula.

Ejemplo

$\frac{3}{4}$	de	168	
42 42			
42 42			
168		4	42
08		42	x3
0			<u>126</u>

www.multiplicar.net

$$\frac{5}{7} \text{ de } 175$$

$$\frac{1}{4} \text{ de } 28$$

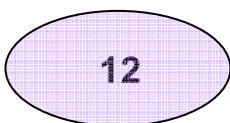
$$\frac{1}{7} \text{ de } 294$$

$$\frac{3}{6} \text{ de } 378$$

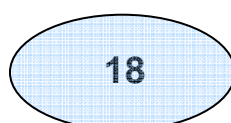
$$\frac{2}{4} \text{ de } 224$$

Une con flechas

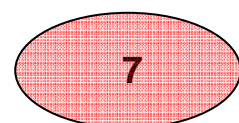
$$\frac{1}{3} \text{ de } 21$$



$$\frac{4}{9} \text{ de } 27$$



$$\frac{2}{5} \text{ de } 45$$



Nombre: _____

Fecha: _____

Dibuja la fracción en la cuadrícula y calcula.

Ejemplo

$\frac{3}{4}$ de	168
$\frac{42}{42}$	
$\frac{42}{42}$	

168		4		42
08		42		x3
0				<u>126</u>

www.multiplicar.net

$$\frac{6}{7} \text{ de } 140$$

$$\frac{3}{4} \text{ de } 224$$

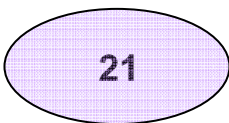
$$\frac{2}{3} \text{ de } 111$$

$$\frac{8}{9} \text{ de } 18$$

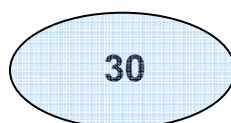
$$\frac{3}{7} \text{ de } 329$$

Une con flechas

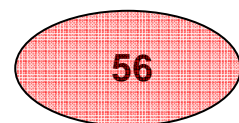
$$\frac{7}{8} \text{ de } 64$$



$$\frac{3}{5} \text{ de } 35$$



$$\frac{3}{4} \text{ de } 40$$



Nombre: _____

Fecha: _____

Dibuja la fracción en la cuadrícula y calcula.

Ejemplo

$\frac{3}{4}$	de	168
42		42
42		42

168		4		42
08		42		x3
0				<u>126</u>

www.multiplicar.net

$$\frac{3}{5} \text{ de } 35$$

$$\frac{2}{8} \text{ de } 472$$

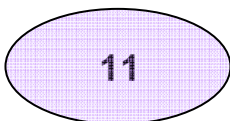
$$\frac{4}{6} \text{ de } 390$$

$$\frac{3}{4} \text{ de } 276$$

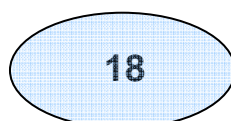
$$\frac{4}{8} \text{ de } 104$$

Une con flechas

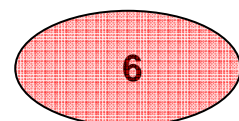
$$\frac{1}{4} \text{ de } 24$$



$$\frac{1}{5} \text{ de } 55$$



$$\frac{3}{5} \text{ de } 30$$



Nombre: _____

Fecha: _____

Dibuja la fracción en la cuadrícula y calcula.

Ejemplo

$\frac{3}{4}$	de	168
$168 \overline{) 42}$ $08 \quad 42$ 0 <hr/> 126		

www.multiplicar.net

$$\frac{2}{3} \text{ de } 237$$

$$\frac{6}{7} \text{ de } 175$$

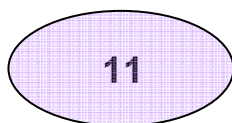
$$\frac{4}{9} \text{ de } 171$$

$$\frac{4}{8} \text{ de } 352$$


$$\frac{2}{3} \text{ de } 60$$

Une con flechas

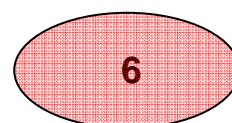
$$\frac{1}{3} \text{ de } 18$$



$$\frac{1}{3} \text{ de } 33$$



$$\frac{3}{6} \text{ de } 60$$



Nombre: _____

Fecha: _____

Dibuja la fracción en la cuadrícula y calcula.

Ejemplo

$\frac{3}{4}$	de	168
42	42	
42	42	

168		4		42
08		42		x3
0				<u>126</u>

www.multiplicar.net

$$\frac{2}{3} \text{ de } 189$$

$$\frac{4}{8} \text{ de } 336$$

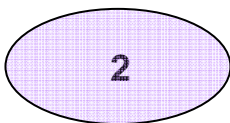
$$\frac{7}{8} \text{ de } 344$$

$$\frac{1}{2} \text{ de } 98$$

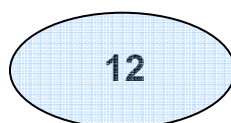
$$\frac{4}{5} \text{ de } 280$$

Une con flechas

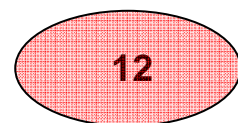
$$\frac{3}{8} \text{ de } 32$$



$$\frac{1}{3} \text{ de } 6$$



$$\frac{2}{3} \text{ de } 18$$



Nombre: _____

Fecha: _____

Dibuja la fracción en la cuadrícula y calcula.

Ejemplo

$\frac{3}{4}$ de	168
$\frac{42}{42}$	
$\frac{42}{42}$	
168 4	42
08 42	x3
0	126

$\frac{6}{7}$ de 7

$\frac{3}{5}$ de 125

www.multiplicar.net

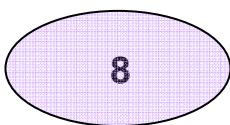
$\frac{3}{8}$ de 592

$\frac{6}{9}$ de 639

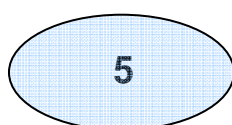
$\frac{7}{8}$ de 384

Une con flechas

$\frac{1}{8}$ de 48



$\frac{1}{5}$ de 40



$\frac{1}{6}$ de 30

